

Математика 4 клас

Урок № 4

Вітаю тебе, друже! Сьогодні ми продовжуємо розширювати знання з математики. Бажаємо успіхів!

Тема: Узагальнюємо прийоми додавання і віднімання в межах 1000

Хід уроку

1. Хвилинка каліграфії

Напиши каліграфічно число-відповідь:

число 530 збільшити на 280

Напиши отримане число до кінця рядочка.


2. Виконай завдання

Сторінка 10, завдання 1

Поміркуй!

Прокоментуй розв'язання Оксани. Які прийоми обчислення вона застосувала? Як можна було міркувати інакше?

$260 + 470 = 300 + 430 = 730$ $40 + 430$	$540 - 280 = 300 - 40 = 260$ $240 + 40$
$260 + 470 = 230 + 500 = 730$ $230 + 30$	$540 - 280 = 60 + 200 = 260$ $60 + 480$
$260 + 470 = 600 + 130 = 730$ $200 + 60$ $400 + 70$	$540 - 280 = 200 + 60 = 260$ $400 + 140$ $200 + 80$
$260 + 470 = 760 - 30 = 730$ $260 + 470 = 26 \text{ д.} + 47 \text{ д.} = 730$	$540 - 280 = 240 + 20 = 260$ $540 - 280 = 54 \text{ д.} - 28 \text{ д.} = 260$



3. Виконай завдання

Сторінка 10, завдання 2

Виконай у зошиті

Зістав вирази в кожному стовпчику. Знайди значення першого виразу частинами. Як допоможе це розв'язання знайти значення другого виразу в стовпчику? Знайди його. Чи можна міркувати так само, обчислюючи значення третього виразу? Обчисли його значення.

$46 - 23$

$35 + 22$

$64 - 26$

$45 + 27$

$346 - 23$

$435 + 22$

$264 - 26$

$345 + 27$

$346 - 123$

$435 + 322$

$264 - 126$

$345 + 127$

4. Виконай завдання

Сторінка 10, завдання 3

Виконай у зошиті

Знайди значення першого виразу в стовпчику порозрядно. Чи можна під час знаходження значення другого виразу в стовпчику міркувати аналогічно? Знайди його значення.

$35 + 23$

$67 - 43$

$37 + 18$

$82 - 45$

$135 + 223$

$467 - 243$

$237 + 118$

$482 - 145$

5. Розв'язуємо задачу

Сторінка 11, завдання 7

1. Прочитай задачу

За 8 ручок заплатили 64 грн, а за 3 олівці — 12 грн. Яка ціна 1 ручки і 1 олівця?

2. Розглянь краткий запис

	Ціна за 1	Кількість	Вартість
Р.	?	8 р.	64 грн
Ол.	?	3 ол.	12 грн

3. Розв'яжи задачу

4. Перевір розв'язання задачі

1) $64 : 8 = 8$ (грн) ціна однієї ручки

2) $12 : 3 = 4$ (грн) ціна одного олівця

3) $8 + 4 = 12$ (грн)

Відповідь: ціна однієї ручки та одного олівця 12 грн.

6. Логічне завдання

Сторінка 11, завдання 8

Поміркуй!

У Зої було 5 горіхів. Коли вона віддала братові 1 горіх, то в дітей стало горіхів порівну. Скільки горіхів було в брата Зої спочатку?




7. Математична гра

Пройди за посиланням та пограй

Інтерактивна вправа

8. Оціни свою роботу

Обведи смайлик, який відображає твої почуття

Завдання для мене були:

- дуже легкі
- легкі
- складні
- дуже складні
- не знаю